




Zadanie

1. Uzupełnij tabelkę

Podstawa graniastosłupa	Nazwa graniastosłupa	Liczba ścian	Liczba krawędzi	Liczba wierzchołków
Trójkąt				
Czworokąt				
Pięciokąt				
Sześciokąt				



2. Ile wierzchołków, krawędzi i ścian (łącznie z podstawami) ma graniastosłup

- a) siedmiokątny?
- b) dziesięciokątny?

